

La suisse

Généralités

1) Voici une carte de l'Europe. Observe-la bien et colorie la Suisse en utilisant un crayon rouge.



Comment s'appellent les 4 pays voisins de la Suisse ? Donne leur nom, puis colorie-les sur la carte de la couleur indiquée.

- _____ (en bleu)
- _____ (en vert)
- _____ (en jaune)
- _____ (en orange)

2)_ Voici une carte de la Suisse. Observe-la, puis :

Géographie 7P

- Indique où se trouve Nyon grâce à un point rouge.
- Indique où se trouve la capitale grâce à un point bleu.

Comment s'appelle cette capitale ? _____



3) Quelle est la surface de la Suisse ? Entoure la bonne réponse.

- A titre de comparaison, la France fait environ 650'000km².

41'000km²

100'000km²

400'000km²

4) Combien y'at-til d'habitants en Suisse ? Entoure la bonne réponse.

- A titre de comparaison, la France a environ 65'000'000 habitants.

40'000'000 d'habitant

8'000'000 d'habitants

20'000'000

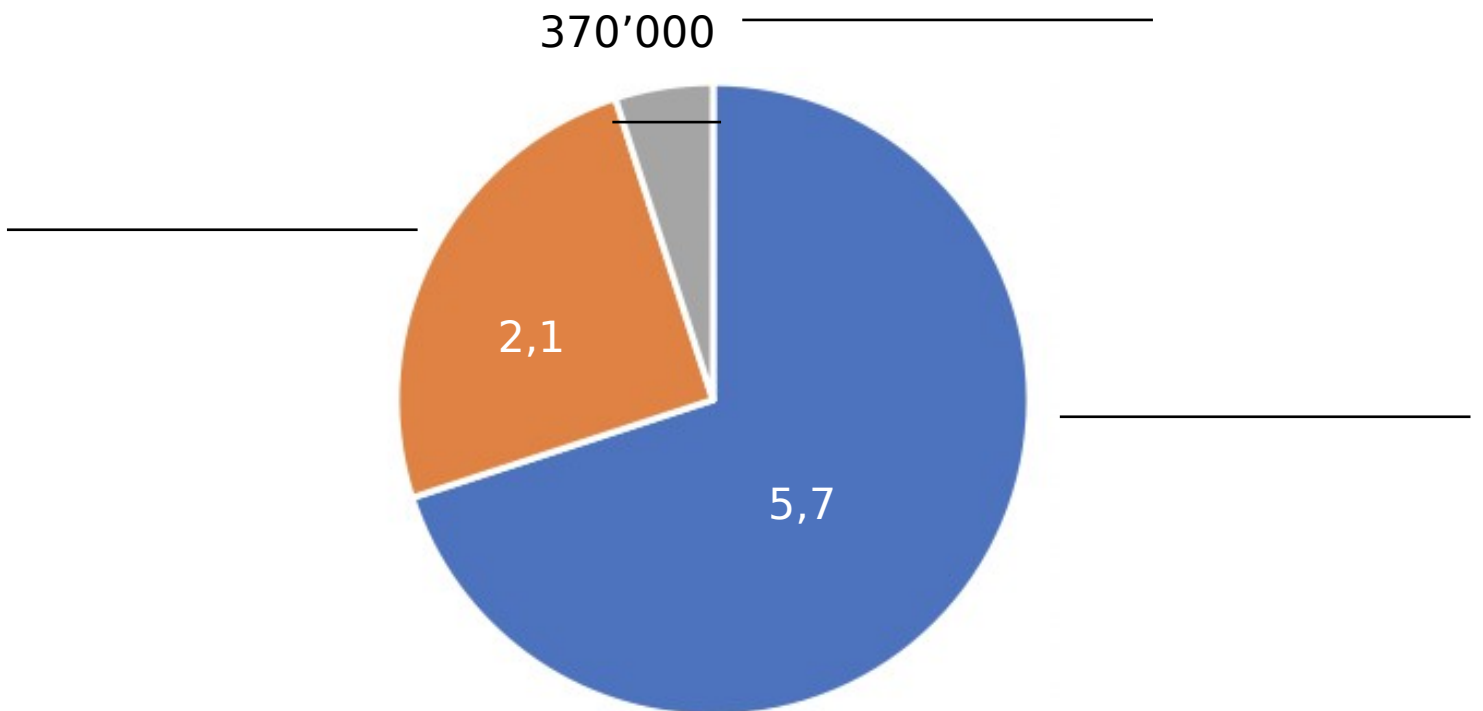
d'habitants

5) La Suisse est un pays particulier qui possède plusieurs langues officielles. Quelles sont les trois principales?





6) Comment nomme-t-on les personnes parlant chacune de ces langues ?

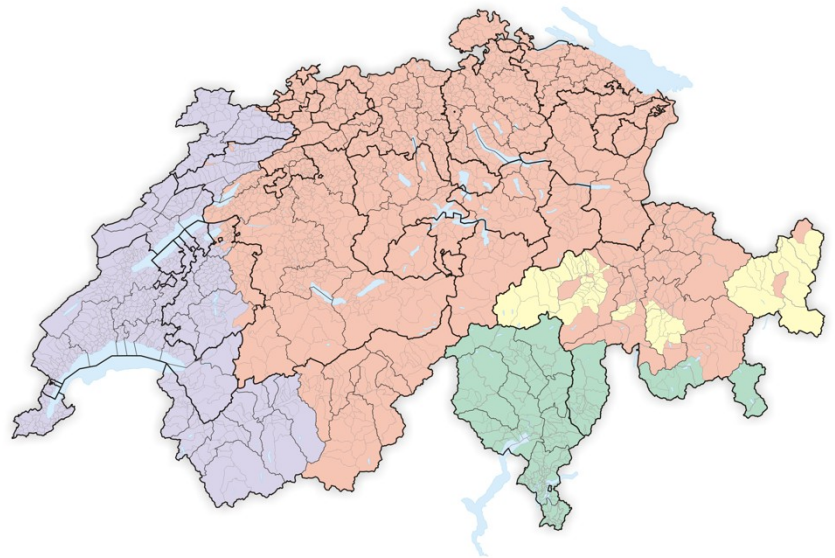
Langue	Nom

7) Voici un graphique qui montre la proportion de chacune des langues de la Suisse. Quelle partie représente chacune de ces langues ?

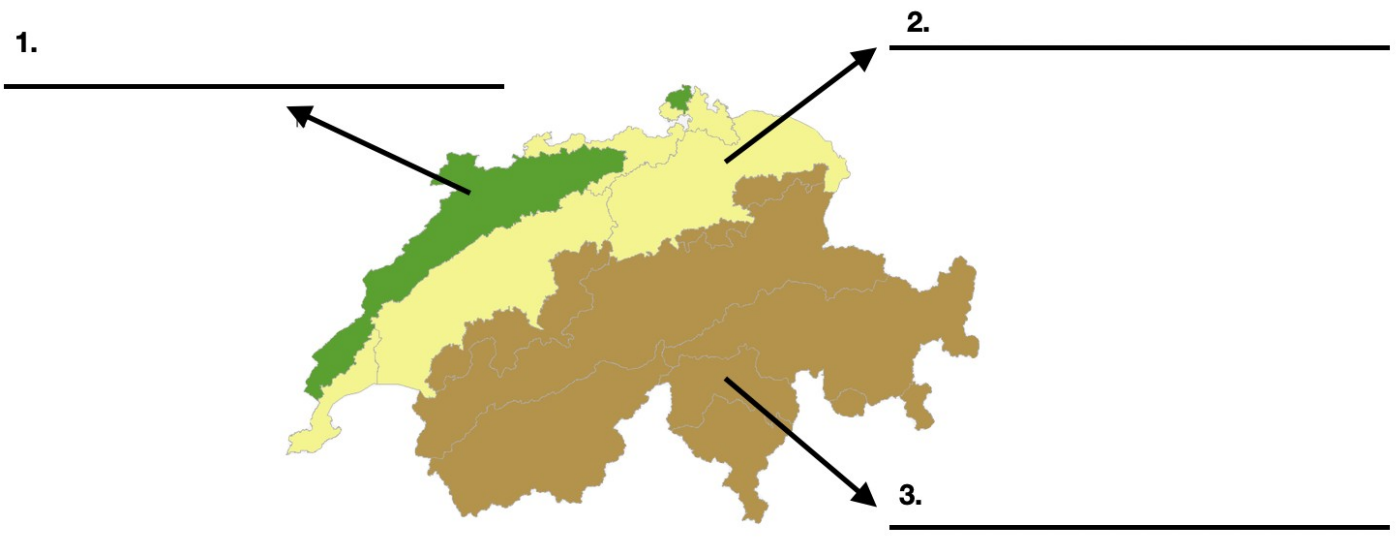


8) Quelle langue est parlée dans chacune de ces régions ?

	<input type="text"/>
	<input type="text"/>
	<input type="text"/>
	<input type="text"/>



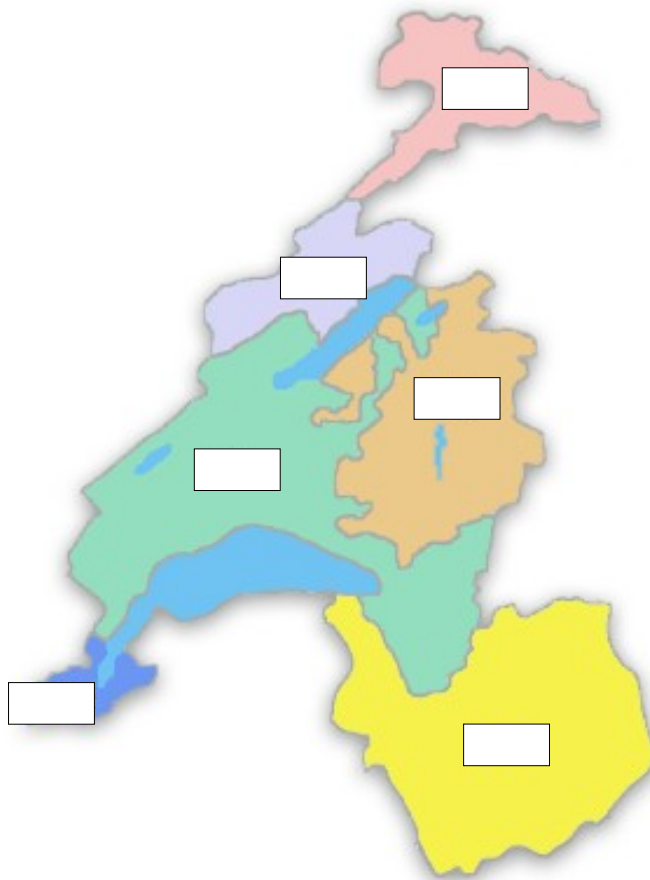
9) En plus d'être séparée par les langues, la Suisse est également découpée en trois grandes régions naturelles. Sur la carte ci-dessous, note le nom de ces trois régions.



10) Lis et complète le texte ci-dessous.

La Suisse, aussi appelée _____ a été fondée en _____. À cette époque, seulement trois cantons en faisaient partie : _____, _____ et _____. Ces trois cantons fondateurs ont ensuite dans un premier temps été rejoint par d'autres régions _____, puis par des régions _____ et _____ qui devinrent chacune de nouveaux cantons. Ces différences de langage expliquent pourquoi la Suisse est un pays _____. Aujourd'hui, elle possède _____ cantons.

11) Voici la carte de la Suisse romande. Place les cantons au bon endroit en utilisant leurs abréviations, comme indiquées à droite de l'image.



VS = Valais

JU = Jura

NE = Neuchâtel

GE = Genève

VD = Vaud


FR = Fribourg

12) Relie ces cantons romands avec les armoiries qui leur correspondent.

Géographie 7P



Vaud




Jura



Fribourg



Valais



Genève



Neuchâtel