


Les nombres

de 0 à



MNS 12

Nombres

13

14


15

Comparer, classer, encadrer,
intercaler des nombres.

Prénom : _____

Date : _____

Je compte de 10 à 0

1- Complète  :

10			7			4				0
----	--	--	---	--	--	---	--	--	--	---

2- Range ces nombres du plus GRAND au plus PETIT 1 2 3 ... :

5	8	6	2	10	9	⇒	10	9	8	6	5	2
---	---	---	---	----	---	---	----	---	---	---	---	---

10	4	1	0	7	8	⇒						
----	---	---	---	---	---	---	--	--	--	--	--	--

4	6	2	8	10	0	⇒						
---	---	---	---	----	---	---	--	--	--	--	--	--

3- Colorie  le nombre le plus grand de chaque série.

10	7	4	1	3	6	6	9	5
0	7	9	3	7	2	6	3	2

Prénom : _____

Je compte de 10 à 20

1- Complète  :




10		12								20
----	--	----	--	--	--	--	--	--	--	----

2- Range ces nombres du plus PETIT au plus GRAND 1 2 3 ... :

15	11	16	12	20	19	⇒	11	12	15	16	19	20
----	----	----	----	----	----	---	----	----	----	----	----	----

20	14	11	10	17	18	⇒						
----	----	----	----	----	----	---	--	--	--	--	--	--

14	16	12	18	10	20	⇒						
----	----	----	----	----	----	---	--	--	--	--	--	--


3- Complète avec le nombre qui vient juste avant et le nombre qui vient juste après  :

	11			14			17	
	12			15			18	
	13			16			19	

Prénom : _____

Je compte de 20 à 10

1- Complète  :



	19				15					
--	----	--	--	--	----	--	--	--	--	--

2- Range ces nombres du plus GRAND au plus PETIT 1 2 3 ... :

14 19 16 20 17 15 \Rightarrow 20 19 17 16 15 14

19 14 10 16 12 18 \Rightarrow

14 17 16 15 13 18 \Rightarrow

3- Colorie 1 2 3  le nombre le plus grand de chaque série.

20 17 15

11 14 19

19 20 13

16 11 12

10 16 11

18 14 17

Prénom : _____

Je compte de 20 à 30

1- Complète  :



	21								29	
--	----	--	--	--	--	--	--	--	----	--


2- Range ces nombres du plus PETIT au plus GRAND 1 2 3 ... :

25 21 26 22 30 29 → 21 22 25 26 29 30

20 24 21 30 27 28 →

25 22 20 30 26 21 →

3- Complète avec le nombre qui vient juste avant et le nombre qui vient juste après

 1 2 3 :

20 21 22

22

23

24

25

26

27


28

29

Prénom : _____

Je compte de 30 à 20

1- Complète  :



30			27							20
----	--	--	----	--	--	--	--	--	--	----

2- Range ces nombres du plus GRAND au plus PETIT 1 2 3 ... :

20	23	25	21	29	30	⇒	30	29	25	23	21	20
----	----	----	----	----	----	---	----	----	----	----	----	----

29	24	20	26	22	28	⇒						
----	----	----	----	----	----	---	--	--	--	--	--	--

22	25	21	28	20	30	⇒						
----	----	----	----	----	----	---	--	--	--	--	--	--

3- Colorie

1	2	3
---	---	---

 le nombre le plus grand de chaque série.

26	20	29	21	30	25	24	27	23
----	----	----	----	----	----	----	----	----

25	27	21	24	21	23	22	21	20
----	----	----	----	----	----	----	----	----

Prénom : _____

Je compte de 30 à 40

1- Complète  :



	31								39	
--	----	--	--	--	--	--	--	--	----	--

2- Range ces nombres du plus PETIT au plus GRAND 1 2 3 ... :

35	31	36	32	40	39	⇒	31	32	35	36	39	40
----	----	----	----	----	----	---	----	----	----	----	----	----

30	34	31	40	37	38	⇒						
----	----	----	----	----	----	---	--	--	--	--	--	--

33	35	32	38	40	30	⇒						
----	----	----	----	----	----	---	--	--	--	--	--	--


3- Complète avec le nombre qui vient juste avant et le nombre qui vient juste après



30	31	32		34			37	
	32			35			38	
	33			36			39	

Je compte de 40 à 30

1- Complète  :



40					35				
----	--	--	--	--	----	--	--	--	--

2- Range ces nombres du plus GRAND au plus PETIT 1 2 3 ... :

40	33	35	31	39	30	⇒	40	39	35	33	31	30
----	----	----	----	----	----	---	----	----	----	----	----	----

39	34	30	36	32	38	⇒						
----	----	----	----	----	----	---	--	--	--	--	--	--

34	37	31	35	33	39	⇒						
----	----	----	----	----	----	---	--	--	--	--	--	--

3- Colorie

1

2

3

 le nombre le plus grand de chaque série.

40	36	38	37	32	39	31	34	36
----	----	----	----	----	----	----	----	----

34	40	30	40	31	38	32	30	37
----	----	----	----	----	----	----	----	----

Je compte de 40 à 50

1- Complète 




<input type="text"/>	<input type="text"/>	42	<input type="text"/>	<input type="text"/>	45	<input type="text"/>	<input type="text"/>	<input type="text"/>	<input type="text"/>	<input type="text"/>
----------------------	----------------------	----	----------------------	----------------------	----	----------------------	----------------------	----------------------	----------------------	----------------------

2- Range ces nombres du plus PETIT au plus GRAND 1 2 3 ... :

45	41	46	42	40	49	⇒	40	41	42	45	46	49
----	----	----	----	----	----	---	----	----	----	----	----	----

40	44	41	50	47	48	⇒	<input type="text"/>	<input type="text"/>	<input type="text"/>	<input type="text"/>	<input type="text"/>	<input type="text"/>
----	----	----	----	----	----	---	----------------------	----------------------	----------------------	----------------------	----------------------	----------------------

44	46	42	48	40	50	⇒	<input type="text"/>	<input type="text"/>	<input type="text"/>	<input type="text"/>	<input type="text"/>	<input type="text"/>
----	----	----	----	----	----	---	----------------------	----------------------	----------------------	----------------------	----------------------	----------------------


3- Complète avec le nombre qui vient juste avant et le nombre qui vient juste après  :

40	41	42	<input type="text"/>	44	<input type="text"/>	<input type="text"/>	47	<input type="text"/>
<input type="text"/>	42	<input type="text"/>	<input type="text"/>	45	<input type="text"/>	<input type="text"/>	48	<input type="text"/>
<input type="text"/>	43	<input type="text"/>	<input type="text"/>	46	<input type="text"/>	<input type="text"/>	49	<input type="text"/>

Prénom : _____

Je compte de 50 à 40

1- Complète 1 



<input type="text"/>	49	<input type="text"/>	<input type="text"/>	<input type="text"/>	45	<input type="text"/>	<input type="text"/>	<input type="text"/>	<input type="text"/>	<input type="text"/>
----------------------	----	----------------------	----------------------	----------------------	----	----------------------	----------------------	----------------------	----------------------	----------------------

2- Range ces nombres du plus GRAND au plus PETIT 1 2 3 ... :

50	43	45	41	49	40	⇒	50	49	45	43	41	40
----	----	----	----	----	----	---	----	----	----	----	----	----

49	44	50	46	42	48	⇒	<input type="text"/>	<input type="text"/>	<input type="text"/>	<input type="text"/>	<input type="text"/>	<input type="text"/>
----	----	----	----	----	----	---	----------------------	----------------------	----------------------	----------------------	----------------------	----------------------

44	47	46	45	43	40	⇒	<input type="text"/>	<input type="text"/>	<input type="text"/>	<input type="text"/>	<input type="text"/>	<input type="text"/>
----	----	----	----	----	----	---	----------------------	----------------------	----------------------	----------------------	----------------------	----------------------

3- Colorie

1	2	3 
---	---	---

 le nombre le plus grand de chaque série.

47	50	44	41	43	47	42	50	49
49	40	48	46	48	45	43	41	40