


La géométrie

Exercice 1 :

Observe et indique le nom de chacune de ces formes géométriques.

Complète le nombre de sommets et d'angles droits qu'il y a pour chaque figure (dans les ronds).



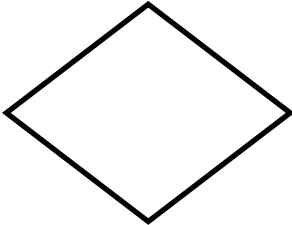
Nom : _____

Nombre de sommets : Nombre d'angles droits :




Nom : _____

Nombre de sommets : Nombre d'angles droits :




Nom : _____

Nombre de sommets : Nombre d'angles droits :



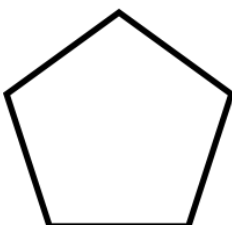
Nom : _____

Nombre de sommets : Nombre d'angles droits :



Nom : _____

Nombre de sommets : Nombre d'angles droits :



Nom : _____

Nombre de sommets : Nombre d'angles droits :