

Prénom: _____

Exercices sur les livrets 2,3,4,5 et 10

Note les réponses

1) $30:10 = \dots\dots\dots$

2) $3 \times 4 = \dots\dots\dots$

3) $5 \times 6 = \dots\dots\dots$

4) $4:4 = \dots\dots\dots$

5) $2 \times 1 = \dots\dots\dots$

6) $24:3 = \dots\dots\dots$

7) $7 \times 10 = \dots\dots\dots$

8) $18:2 = \dots\dots\dots$

9) $5 \times 5 = \dots\dots\dots$

10) $18:3 = \dots\dots\dots$

11) $7 \times 5 = \dots\dots\dots$

12) $12 \times 5 = \dots\dots\dots$

13) $15:5 = \dots\dots\dots$

14) $9:3 = \dots\dots\dots$

15) $8 \times 2 = \dots\dots\dots$

16) $55:5 = \dots\dots\dots$

17) $4 \times 6 = \dots\dots\dots$

18) $0 \times 2 = \dots\dots\dots$

19) $36:4 = \dots\dots\dots$

20) $33:3 = \dots\dots\dots$

21) $\dots\dots\dots \times 4 = 20$

22) $\dots\dots\dots \times 2 = 12$

23) $7 \times \dots\dots\dots = 21$

24) $4 \times \dots\dots\dots = 32$

25) $\dots\dots\dots \times 6 = 60$




26) $\dots\dots\dots \times 10 = 20$

27) $1 \times \dots\dots\dots = 3$

28) $12 \times \dots\dots\dots = 120$

29) $\dots\dots\dots \times 7 = 28$

30) $\dots\dots\dots \times 11 = 22$

1	37	23	3	23	2	38	29	13	11	
17	24	10	27	31	12	7	31	34	23	
31	29	12	6	24	22	13	11	35	1	
21	9	3	12	18	6	15	2	13	7	
37	19	24	9	36	22	7	19	38	17	
5	36	7	18	11	24	25	10	5	29	
10	5	14	30	26	4	28	2	34	38	
17	22	6	25	28			20	37	14	
28	26	17	35	8		4	8	32	22	17
35	5	40	14	2	28	40	1	38	16	
19	11	16	20	4	16	32	20	16	4	
34	19	32	8	2	13	26	25	8	40	

Colorie les multiples de 3 en jaune et les multiples de 4 en bleu
Attention certaines cases seront vertes
(mélange du jaune et bleu)

Résous ces problèmes. Mets les calculs dans les cases.


1) Dans son armoire, Julie fait du tri. Elle a 5 pulls, 8 pantalons, 7 vestes et 4 jaquettes. Elle jette 3 pulls et 2 pantalons. Combien d'habits lui restent-ils?

2) Marie court tous les jours pour s'entraîner. Aujourd'hui, elle a parcouru 12 kilomètres. Son parcours fait 25 kilomètres.

Combien de kilomètres lui reste-t-il à parcourir?

3) Lisa a reçu de l'argent pour son anniversaire. Sa tante lui a donné 15 francs, son père 12 francs et sa grand-mère le reste pour avoir 40 francs en tout. Combien d'argent a donné la grand-mère?

Calcule puis colorie les cases avec la bonne couleur.



En bleu: 4 / 10 / 18 / 28

En rouge: 0

En jaune: 7 / 16 / 20

En violet: 14 / 24 / 27

En vert: 9 / 15

En brun: 1 / 2 / 3 / 8

En rose: 12 / 21 / 32