

TEST plan 3 2016-2017

Objectifs

- utiliser un code pour mémoriser et communiquer des itinéraires
- compter et décompter de 1 en 1, 10 en 10, 100 en 100 à partir d'un nombre donné
- encadrer des nombres

NOTE: _____

Commentaires:

Signature: _____

1. Complète ce tableau.

SOIS ATTENTIF ou ATTENTIVE. (6p)

$789 + 1 =$	$694 - 10 =$	$306 + 10 =$
$220 + 10 =$	$253 - 1 =$	$954 + 100 =$
$667 + 100 =$	$888 - 10 =$	$345 + 1 =$
$365 - 100 =$	$494 + 10 =$	$1'000 - 100 =$
$105 - 100 =$	$399 + 1 =$	$111 - 10 =$
$700 - 1 =$	$3 + 100 =$	$810 - 1 =$

2. Regarde l'image. Elle se passe au temps des dinosaures. Pourtant certains objets n'ont rien à faire dans le dessin.

A) Entoure 5 images qui ne devraient pas être là.

B) Indique l'endroit où sont ces 5 images. (5p)

image 1: _____

image 2: _____


image 3: _____


image 4: _____


image 5: _____


3. Dessine le chemin de chaque animal. Le départ est sur le point noir du rectangle (en haut à gauche).

N'oublie pas le point d'arrivée. (6p)



 en rouge ← ← ↓ ↓ ↓ → ↓ → ↓ → → → ↓ ← △

 en bleu ↑ ↑ → ← ↑ ↑ → ← ↑ ↑ ← → ↑ ↑ ↑ ↓ △

 en vert ↑ → → → ↓ ↓ ↓ ↓ → ↓ ↓ ← △

