

TEST : les grands nombres

1. Complète le tableau des grands nombres ci-dessous :

		U						

2. Note dans le tableau les nombres ci-dessous :

900047 / 785100147 / 40004 / 1230000 / 9999

3. Ecris en chiffres les nombres ci-dessous :

- deux mille vingt-deux
- quarante-quatre mille vingt
- sept millions dix-huit mille sept cents un
- cinq cent sept millions soixante-six mille neuf cent vingt-quatre

4. Complète les suites de nombres ci-dessous :

- 50600 - 50700 - - -
- 678 - 688 - - - -
- 1111 - 2111 - - - -
- 135 - 125 - 115 - - - -

5. Décompose selon le modèle :

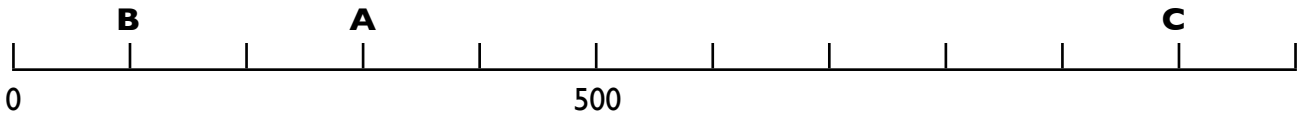
$$24512 = (2 \times 10000) + (4 \times 1000) + (5 \times 100) + (1 \times 10) + 2$$

- 3470 =
- 405 =

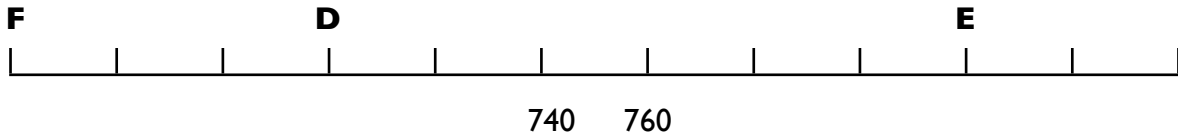
6. Ecris les nombres correspondant aux nombres décomposés :

- $(5 \times 100.000) + (8 \times 1000) + (4 \times 10)$:
- $(6 \times 10.000) + (4 \times 100) + 8 =$

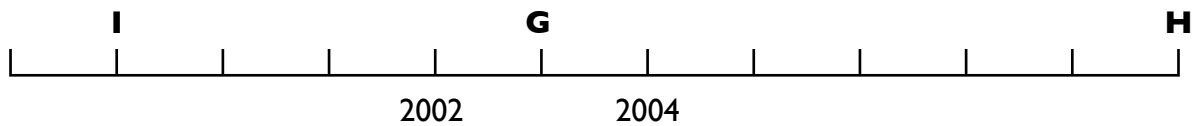
7. Indique la place des nombres sur les axes gradués.



A = B : C =



D = E : F =



G = H : I =

8. Place les signes $<$, $>$ ou $=$ entre les nombres ci-dessous :

4006 4060 006789 6789
 1000010 1000100 989898 898989

9. Classe les nombres ci-dessous dans l'ordre croissant (du plus petit au plus grand) :

1001 1010 10000 1100 1011 110 10001

..... < < < < <

10. Oncle Picsou a cent millions cinq cent quatorze mille dollars, son ennemi, le bandit Rapetou a 110 050 890 dollars. Qui est le plus riche des deux ?

.....