

Objectifs: Voir fiche distribuée. Total des points: / 42 Note:

Matériel autorisé: Aucun P.1 / 21 P.2..... / 21

1. a) Certains livres parlent des invasions barbares. Que penses-tu de ce titre?

Justifie en détails. Quel titre serait plus juste?

b) Quel peuple barbare était différent des autres? / 5



2. a) Donne les 3 temps historiques de ce document:

b) Complète: Les à la bataille de Châlons, vue par [Alphonse de Neuville](#) (1836-85) pour L'Histoire de France depuis les temps les plus reculés jusqu'en 1789 de [Guizot](#), vol.

c) Justifie b) à l'aide du document (décris-le).

d) Comment s'appelait leur roi?

e) Est-ce une source primaire ou secondaire ? (Entoure la bonne réponse) / 8

3. Que se passe-t-il en 1453? (2 événements)

..... / 2

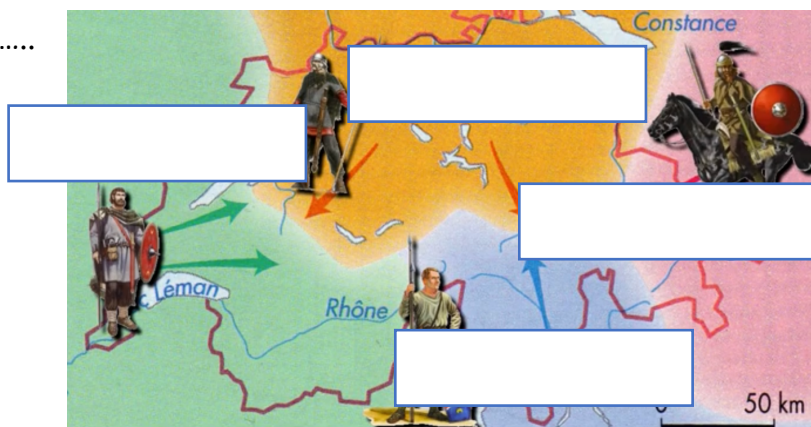
4. a) Que montre cette carte ? (Nom exact

!)

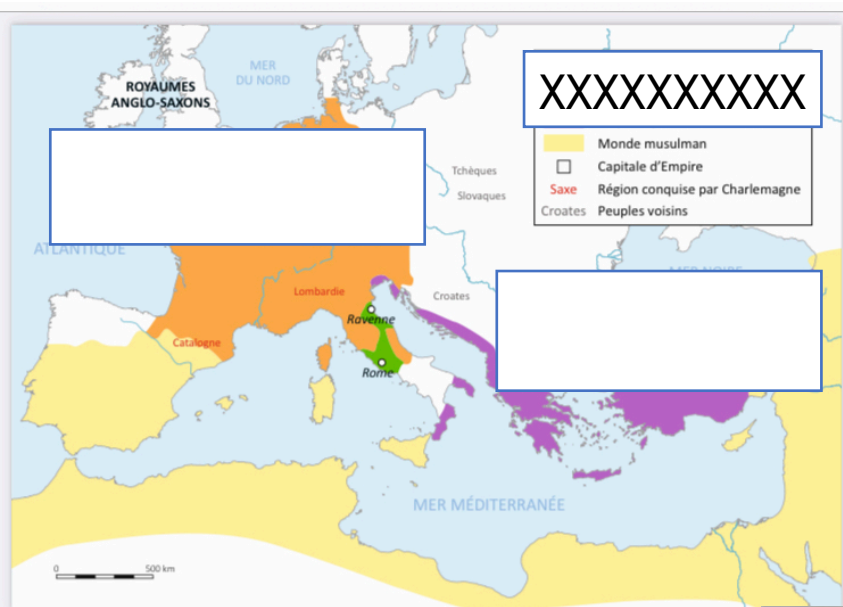
b) Complète !

c) Quel est le lien entre ce document et la Suisse actuelle ?

..... / 6



B: Céréale (du germanique blâd) +1



5. a) Quels 2 grands empires montre ce document? (Nom exact)
- b) Quelle était la capitale de celui à l'est?
- c) De quel siècle date-t-il?
- d) Sous quel empereur, l'empire de gauche était-il à son apogée?
- / 5

6. a) De quel type de source s'agit-il?

.....

b) Que montre-t-elle?

.....

c) Que nous montre-t-elle sur les Barbares?

d) Est-elle primaire ou secondaire?

(Entoure) <https://musee-archeologienationale.fr/> / 4



7. a) De quel type de sources primaires ne disposons-nous que peu sur la période des Royaumes barbares et pourquoi?

.....

b) Qui étaient les seuls à pouvoir en transmettre?

c) Donne 2 idées sur les Barbares et pourquoi avons-nous cette vision d'eux?

.....

..... / 6

8. Cite 3 causes de la chute de l'Empire romain.

..... / 3

9. a) Qu'est-ce qu'un oppidum?

b) Qu'est-ce que le limes?

c) Quel est le contraire de sédentaire? / 3

Objectifs: Voir fiche distribuée. Total des points: / 42 Note:

Matériel autorisé: Aucun P.1 / 21 P.2..... / 21

1. a) Certains livres parlent des invasions barbares. Que penses-tu de ce titre?

Justifie en détails. Quel titre serait plus juste? **PAS JUSTE CAR MIGRATIONS, IL N'Y AVAIT PAS DE VIOLENCE, pacifiques**

b) Quel peuple barbare était différent des autres? **LES HUNS CAR INVASIONS** / 4



2. a) Donne les 3 temps historiques de ce document:

TEMPS REPRÉSENTÉ: 3-5^E SIÈCLE, 451 (BATAILLE DES CHAMPS CATALAUNIQUES)

TEMPS REPRÉSENTANT 1850-1885, 19^E S

TEMPS DE VISIONNEMENT: 2025 / AUJ. 3

b) Complète: Les HUNS (1) à la bataille de Châlons, vue par **Alphonse de Neuville** (1836-85) pour L'Histoire de France depuis les temps les plus reculés jusqu'en 1789 de **Guizot**, vol.

c) Justifie b) à l'aide du document (décris-le) **IL Y A DE LA VIOLENCE, DES CHEVAUX 1**

d) Comment s'appelait leur roi? **ATTILA**

e) Est-ce une source primaire ou **secondaire** ? (Entoure la bonne réponse) / 8

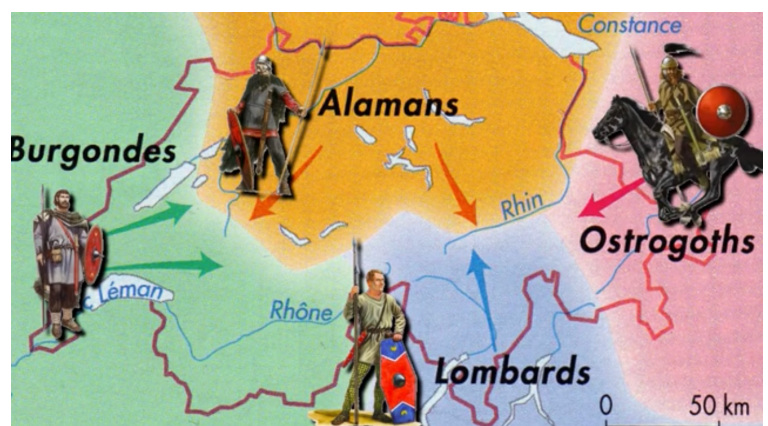
10. Que se passe-t-il en 1453? (2 événements) **CHUTE DE L'EMPIRE BYZANTIN ET FIN DU M-A** / 2

11.a) Que montre cette carte ? (Nom exact !) **L'HELVÉTIE**

b) Complète ! (4)

c) Quel est le lien entre ce document et la Suisse actuelle ?

CELA EXPLIQUE POURQUOI ON PARLE 4 LANGUES EN SUISSE / 6



B: Céréale (du germanique blâd) **BLÉ +1**



CAROLINGIEN ET BYZANTIN

b) Quelle était la capitale de celui à l'est? CONSTANTINOPE

c) De quel siècle date-t-il? 8 OU 9E / 768-814 (RÈGNE CHARLEMAGNE)

d) Sous quel empereur, l'empire de gauche était-il à son apogée?

CHARLEMAGNE / 5

12. a) Quels 2 grands empires montre ce document? (Nom exact)

13.a) De quel type de source s'agit-il?

ARCHÉOLOGIQUE

b) Que montre-t-elle? UNE BOUCLE DE CEINTURE

c) Que nous montre-t-elle sur les Barbares? ILS ÉTAIENT DE BONS ARTISANS

d) Est-elle **primaire** ou secondaire?

(Entoure) <https://musee-archeologienationale.fr/> / 3

14.a) De quel type de sources primaires

ne disposons-nous que peu sur la période des Royaumes barbares et pourquoi?

SOURCES TEXTUELLES / TEXTES PARCE QU'ILS NE SAVAIENT PAS ÉCRIRE

b) Qui étaient les seuls à pouvoir en transmettre? LES DRUIDES

c) Donne 2 idées sur les Barbares et pourquoi avons-nous cette vision d'eux?

SAUVAGES, SANS ÉDUCATION, PARCE QUE LES SOURCES SONT ROMAINES/ 6

15.Cite 3 causes de la chute de l'Empire romain. AFFAIBLISSEMENT DU POUVOIR,

TROP GRAND, MIGRATIONS BARBARES / 3

16.a) Qu'est-ce qu'un oppidum ? VILLAGE FORTIFIÉ

b) Qu'est-ce que le limes? LA FRONTIÈRE DE L'EMPIRE ROMAIN

c) Quel est le contraire de sédentaire? NOMADE / 3

