

Objectifs : Voir fiches distribuées Matériel autorisé : Aucun Note:

Nombre de points: / 24+ / 24+ /14 + /13 = /75

Réponds aux questions de manière claire et précise !

1. Qui était le premier grand explorateur au **XIII^e** siècle et où est-il allé ?

..... /2

2. a) Dans quel domaine important étaient les progrès qui ont permis les grandes découvertes?

..... /1

b) Cite et développes-en 3 !

..... /6

c) Qui finançait les grandes explorations ? /1

d) Cite et développe le parcours de 3 grands explorateurs.

..... /9

3. Qu'est-ce et quels sont les liens avec notre chapitre ? À développer



..... /5

4. a) Complète le tableau avec les 3 principaux peuples précolombiens !

/9

Nom			
2 caractéristiques (capitale, situation, durée, superficie, ...			

b) Pourquoi s'appellent-ils « précolombiens » ?

c) Cite 2 ressemblances.

d) Quel était le premier important peuple avant eux ? /4

5. Développe l'histoire du **commerce** (qui, quoi, où, conséquences) pendant cette période.

.....

.....

.....

..... /6

6. a) De quel type de source s'agit-il?

b) Qui est l'auteur de ce document ?

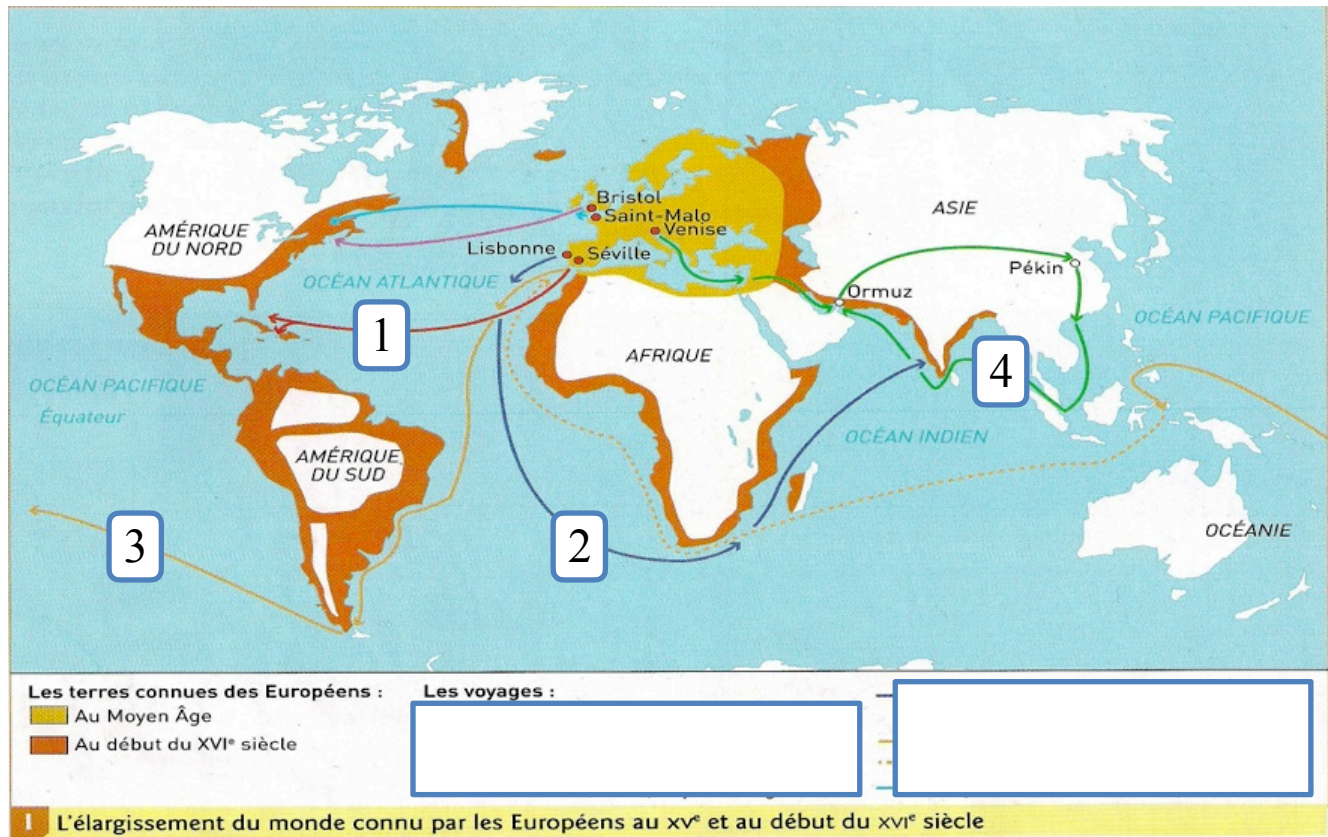
c) À qui est-il destiné =.....

d) Quel point important l'auteur met-il en avant et pourquoi ?

..... /5

« En trente-trois jours je suis arrivé aux Indes. J'y ai trouvé de nombreuses îles dont j'ai pris possession au nom de Leurs Altesses par proclamation et en faisant déployer l'étendard royal. [...] Dans l'île d'Hispaniola (Haïti) en un lieu très convenable, le meilleur point pour l'accès aux mines d'or et pour le trafic vers la terre ferme du Grand Khan (la Chine), j'ai fondé une grande cité à laquelle j'ai donné le nom de Navidad et j'y ai établi une forteresse. [...] Toute la chrétienté doit être dans l'allégresse [...] en considération de l'accroissement que l'afflux de tant de peuples vaudra à notre Sainte Foi.»

/24



7. a) De quel type de document s'agit-il ? / 1


b) Complète-le ! 1 = 2 =

3 = 4 = /4

c) Commente-le !

..... /4

8. Quel est ce document ? (À développer)



.....

.....

.....

/5

9. Que montre ce document ? (À développer)



.....
.....
.....
..... /5

10. Par quel détroit sont venus les Amérindiens il y a plus de 40000 ans et quels 2 endroits relie-t-il ? /2

11. Voilà 3 titres du chapitre. Indique si tu les trouves pertinents et justifie !

a) L'Europe à la rencontre du monde

.....
.....

b) Le premier génocide de l'histoire (expliquer génocide)

.....
.....

c) Les grandes découvertes

.....
..... /6

B: Quelle région de l'Allemagne est la plus grande région industrielle ?

Objectifs : Voir fiches distribuées Matériel autorisé : Aucun Note:

Nombre de points: / 24+ / 24+ /14 + /13 = /75

Réponds aux questions de manière claire et précise !

1. Qui était le premier grand explorateur au **XIII^e** siècle et où est-il allé ?

..... /2

2. a) Dans quel domaine important étaient les progrès qui ont permis les grandes découvertes?

..... /1

b) Cite et développe-en 3 !

..... /6

c) Qui finançait les grandes explorations ? /1

d) Cite et développe le parcours de 3 grands explorateurs.

..... /9

3. Qu'est-ce et quels sont les liens avec notre chapitre ? À développer



..... /5

4. a) Complète le tableau avec les 3 principaux peuples précolombiens !

/9

Nom			
2 caractéristiques (capitale, situation, durée, superficie, ...			

b) Pourquoi s'appellent-ils « précolombiens » ?

c) Cite 2 ressemblances.

d) Quel était le premier important peuple avant eux ? /4

5. Développe l'histoire du **commerce** (qui, quoi, où, conséquences) pendant cette période.

.....

 /6

6. a) De quel type de source s'agit-il?

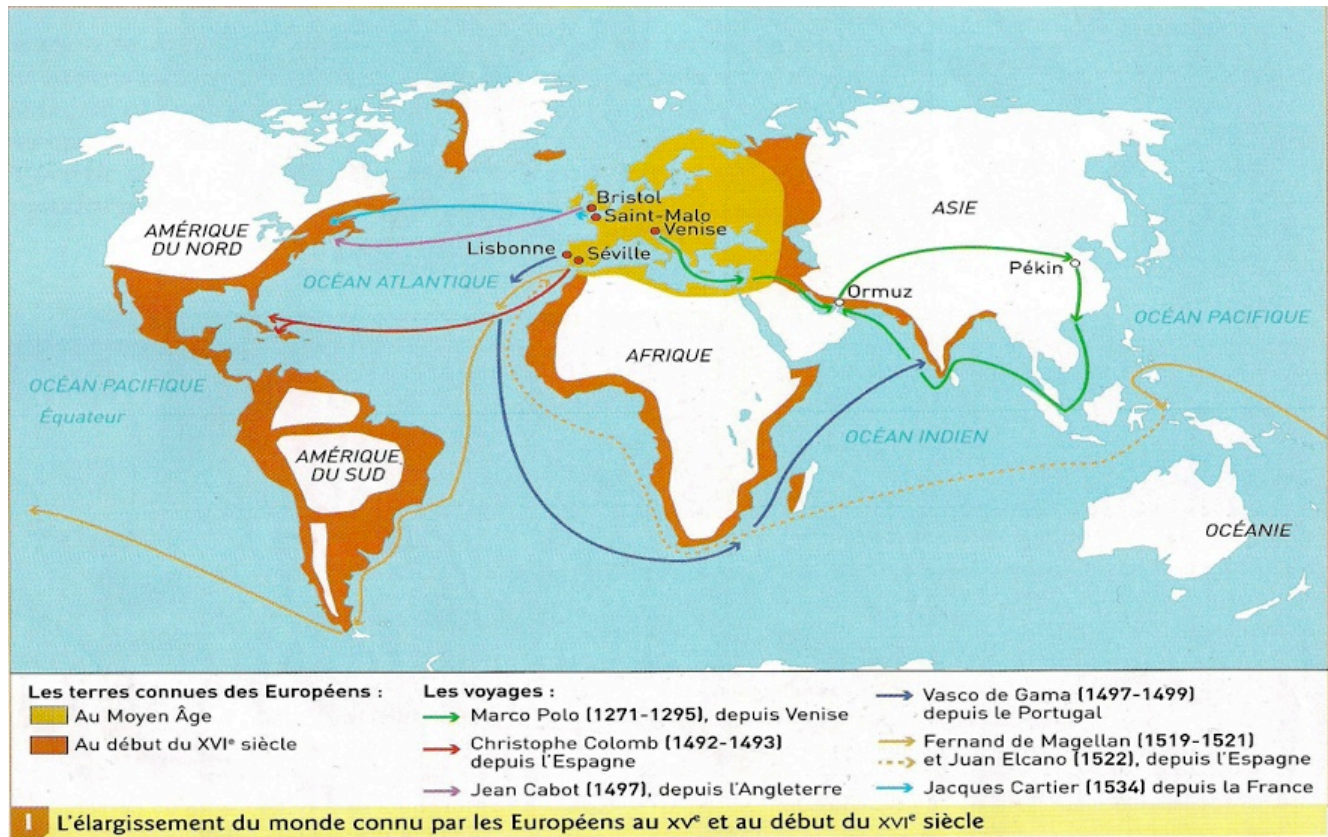
b) Qui est l'auteur de ce document ?

c) À qui est-il destiné =

d) Quel point important l'auteur met-il en avant et pourquoi ?

..... /5

« En trente-trois jours je suis arrivé aux Indes. J'y ai trouvé de nombreuses îles dont j'ai pris possession au nom de Leurs Altesses par proclamation et en faisant déployer l'étendard royal. [...] Dans l'île d'Hispaniola (Haïti) en un lieu très convenable, le meilleur point pour l'accès aux mines d'or et pour le trafic vers la terre ferme du Grand Khan (la Chine), j'ai fondé une grande cité à laquelle j'ai donné le nom de Navidad et j'y ai établi une forteresse. [...] Toute la chrétienté doit être dans l'allégresse [...] en considération de l'accroissement que l'afflux de tant de peuples vaudra à notre Sainte Foi.»



7. a) De quel type de document s'agit-il ? / 1


b) Complète-le ! 1 = 2 =

3 = 4 = /4

c) Commente-le !

..... /4

8. Quel est ce document ? (À développer)



.....

.....

.....

/5

9. Que montre ce document ? (À développer)



.....
.....
.....
..... /5

10. Par quel détroit sont venus les Amérindiens il y a plus de 40000 ans et quels 2 endroits relie-t-il ? /2

11. Voilà 3 titres du chapitre. Indique si tu les trouves pertinents et justifie !

a) L'Europe à la rencontre du monde

.....
.....

b) Le premier génocide de l'histoire (expliquer génocide)

.....
.....

c) Les grandes découvertes

.....
..... /6

B: Quelle région de l'Allemagne est la plus grande région industrielle ?