

La Suisse

Généralités



Objectifs :

- Reconnaître et repérer le pays sur une carte (ex.1)
- Connaître ses pays limitrophes (ex.1)
- Repérer Nyon et Berne sur une carte (ex.2)
- Connaître la superficie et le nombre d'habitants (ex.3 et 4)
- Connaître les 4 langues officielles, leur proportion et leur répartition sur la carte (ex.5, 6 et 7)
- Connaître et savoir placer les 3 régions naturelles (ex.9)
- Connaître des informations générales sur la Suisse (ex.10)
- Reconnaître le blason des 6 cantons romands (ex. 11)
- Savoir placer les 26 cantons sur une carte (ex.12)

1) Voici une carte de l'Europe. Observe-la et identifie la Suisse en la coloriant en rouge.



Comment s'appellent les 5 pays voisins de la Suisse ? Donne leur nom, puis colorie-les sur la carte de la couleur indiquée.

- _____ (en bleu)
- _____ (en vert)
- _____ (en jaune)
- _____ (en orange)
- _____ (en violet)

2) Voici une carte de la Suisse. Observe-la, puis :

- Indique par un point rouge où se trouve Nyon
- Indique par un point vert où se trouve la capitale

Comment s'appelle cette capitale ? _____



3) Quelle est la surface de la Suisse ? Entoure la bonne réponse.

À titre de comparaison, la France fait environ 650'000km².

41'000km²

100'000km²

400'000km²

4) Combien y a-t-il d'habitants en Suisse aujourd'hui ? Entoure la bonne réponse.

À titre de comparaison, la France a environ 65'000'000 habitants.

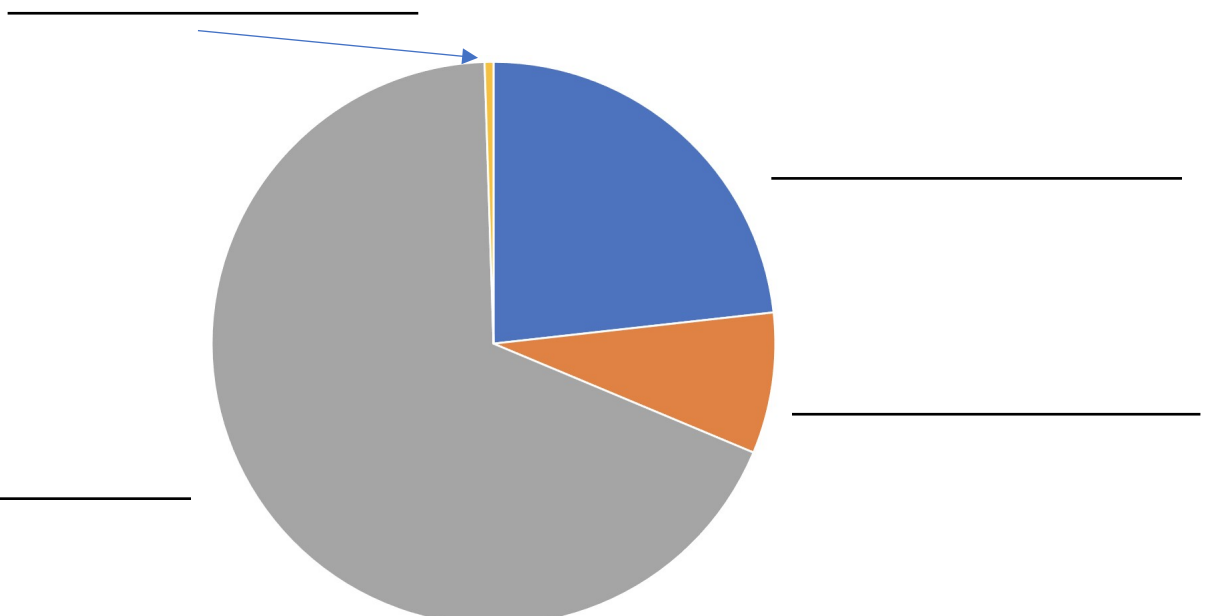
~43'000'000 d'habitants ~9'000'000 d'habitants ~21'000'000 d'habitants

5) La Suisse est un pays particulier qui possède quatre langues nationales. Lesquelles ?

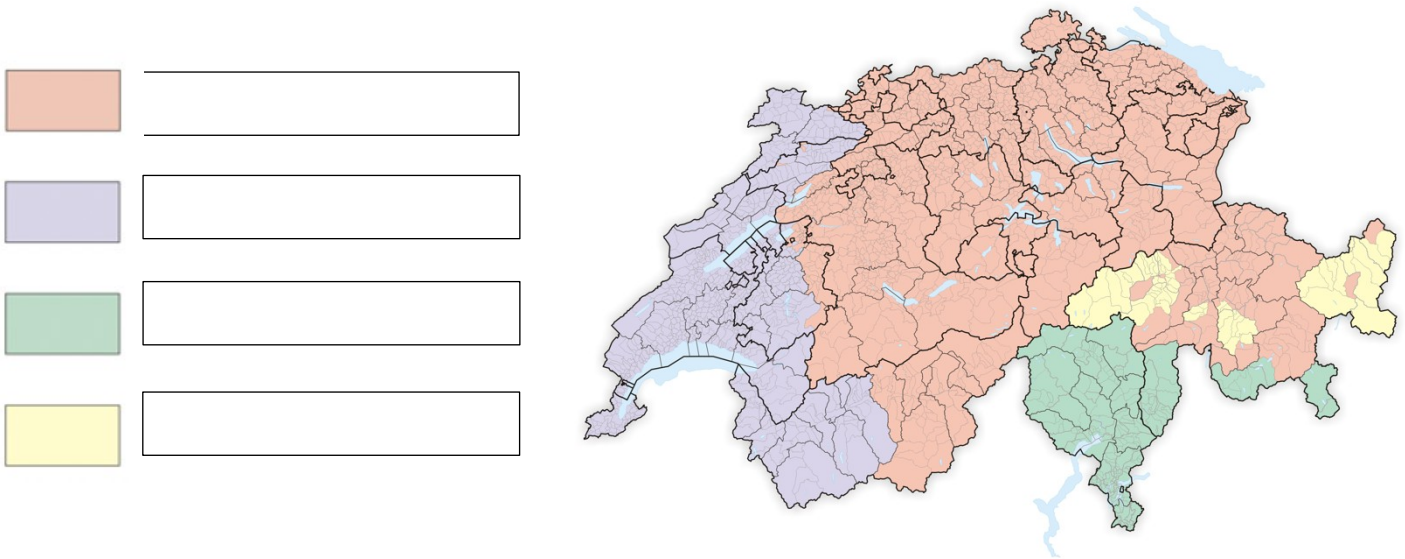
6) Comment nomme-t-on les personnes parlant chacune de ces langues ?

Langue	Nom des personnes parlant la langue

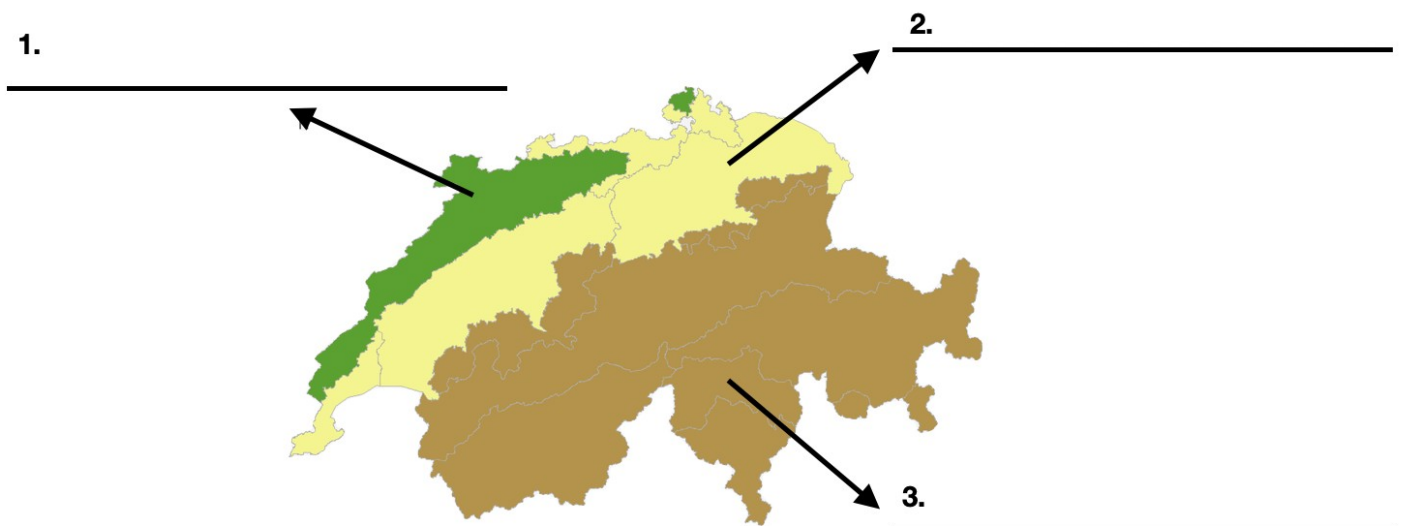
7) Voici un graphique qui montre la proportion des quatre langues nationales. Quelle partie représente chacune de ces langues ?



8) Quelle langue est parlée dans chacune de ces régions ?



9) En plus d'être séparée par les langues, la Suisse est également découpée en trois grandes régions naturelles. Sur la carte ci-dessous, indique le nom de ces trois régions.



(Livre p.4-5)


10) Lis et complète le texte ci-dessous.

La Suisse, aussi appelée _____, a été fondée en _____. À cette époque, seulement trois cantons en faisaient partie : _____, _____ et _____. Ces trois cantons fondateurs ont ensuite dans un premier temps été rejoints par d'autres régions _____, puis par des régions _____ et _____ qui devinrent chacune de nouveaux cantons. Aujourd'hui, elle possède _____ cantons.

11) Relie les cantons romands avec les blasons qui leur correspondent.



Vaud




Jura



Fribourg



Valais



Genève



Neuchâtel

12) Carte des cantons

