

Classe : \_\_\_\_\_ Nom, prénom : \_\_\_\_\_

TA : « Un voyage autour de la Suisse ».

Chers élèves, aujourd'hui on va faire un grand voyage autour de la Suisse ! Et ben sûr, on va apprendre !!!

Je vous conseille de lire le dossier en regardant la carte et en suivant le vidéo. Vous allez apprendre les cantons, les chefs- lieux de chaque canton et la position par rapport à Berne ! Au travail !



1. Pouvez-vous nommer les voisins de la Suisse ?

La France, l'Italie, L'Allemagne, L'Autriche,  
Le Liechtenstein.

2. Lisons les informations importantes sur la Suisse :

- ❖ La Suisse est constituée de 26 cantons.
- ❖ La capitale politique de la Suisse est Berne. C'est aussi la ville principale du canton de Berne. Voilà son drapeau.



- ❖ La capitale olympique de la Suisse est Lausanne. Voilà son drapeau.









Berne devint le point d'origine. On trace l'axe 1 horizontale et l'axe 2 vertical en passant par Berne. Les axes coupent l'espace en 4 quadrants. Chaque point de l'espace se trouve soit dans l'un des 4 quadrants soit sur l'un des deux axes.














Lis le tableau :





Le	L	L	L
dra	e	a	e
pe	n	vi	qu
au/	o	ll	ua
bla	m	e	d
son	d	p	r
	e	n	a
	c	ci	n
	a	p	t
	n	al	/
		e	le
		/	s
		L	qu
		e	ua
		c	d
		h	r
		ef	a
		-li	n
		e	ts
		u.	a
			u
			c
			a
			s
			o
			ù
			l'
			a

			xe coupe le canton en parties
	Canton de Vaud On habite dans le canton de Vaud.	Lausanne	Q III
	Canton de Genève	Genève	Q III
	Canton de Fribourg.	Fribourg.	Axe 1, Q II, Q III
	Canton de Neuchâtel. Plusieurs montres et horloges sont produits ici.	Neuchâtel	Axe 1, Q II, Q III
	Le canton de Jura. C'est le plus récent canton de la Suisse.	Delémont	Axe 2, Q I, Q II

	Canton de Berne. C'est canton bilingue dont les langues officielles sont le français et l'allemand.	Berne	Le point d'origine, Q I, Q II, Q III, Q IV
	Le canton du Valais. Il est creusé par la vallée du Rhône. Le canton est bilingue : le français et l'allemand sont des langues officielles.	Sion	Axe 2, Q III, Q IV
	Bâle -ville.	Bâle.	Q I
	Le canton de Bâle-campagne	Liestal	Axe 2, Q I, Q II
	Le canton de Soleure	Soleure	Axe 2, Q I, Q II.
	Le canton de Lucerne. La région de Lucerne a été habitée depuis le temps de la Préhistoire.	Lucerne	Axe 1, Q I, Q IV.

	Le canton d'Obwald. Le demi- canton d'Obwald et le demi- canton de Nidwald forment le canton historique Unterwald.	Sarnen	Axe 1, Q I, Q IV
	Le canton de Nidwald. Les premières traces de l'activité humaine remontent ici à l'Age de la Pierre Polie.	Stans	Axe 1, QI, Q IV
	Le canton d'Uri. Le nom de canton proviendrait du celtique qui signifie le taureau.	Altdorf	Axe 1, QI, Q IV
	Tessin, c'est le canton italophone de la Suisse. La Majeure et le lac de Come se trouve dans le QIV.	Bellinzona.	Q IV
	Le canton de Grisons. C'est le plus grand canton de la Suisse. C'est le seul canton trilingue : l'allemand, l'italien et le romanche.	Coire	Axe 1, Q I, Q IV

	Le canton de Glaris. Le blason du canton de Glaris est le seul blason de la Suisse représentant le personnage St. Fredolin.	Glaris	Axe 1, Q I, Q IV
	Le canton de Schwytz. C'est un des trois cantons-fondateurs de la Suisse.	Schwytz	Axe 1, Q I, Q IV
	Le canton de Zoug. C'est le canton le plus riche de la Suisse.	Zoug.	Q I
	Argovie. Ce canton est situé au Nord de la Suisse.	Aarau	Q I
	Le canton de Zurich. C'est le plus peuplé canton de la Suisse.	Zurich.	Q I
	Schaffhouse. C'est le Royaume de chutes.	Schaffhouse	Q I

 <p>#16303224</p>	<p>Thurgovie. C'est le canton producteur de pommes pour toute la Suisse.</p>	<p>Frauenfeld</p>	<p>Q I</p>
 <p>#16303124</p>	<p>Le canton de Saint-Gall. Il est entouré au nord par le lac de Constance.</p>	<p>Saint-Gall.</p>	<p>Axe 1, Q I, Q IV</p>
	<p>Appenzell Rhodes-Intérieures. C'est deuxième plus petit en superficie et le moins peuplé canton du pays.</p>	<p>Appenzell</p>	<p>Q I</p>
	<p>Appenzell Rhodes-Extérieures. C'est le canton germanophone.</p>	<p>Herisau</p>	<p>Q I</p>



# Bon travail !

Maintenant, j'Ue connais : (coche les cases si la réponse est positive)

- o Le nom de canton où j'habite et son drapeau.
- o Le nom de la capital politique de la Suisse.
- o Le nombre de cantons en Suisse.
- o Les quadrants dans le plan.
- o Je sais que les points dans le quadrant I ont les deux coordonnées positives.
- o Je sais que les points dans le quadrant II ont la première coordonnée négative et la deuxième coordonnée positive.
- o Je sais que les points dans le quadrant III ont les deux coordonnées négatives.
- o Je sais que les points dans le quadrant IV ont la première coordonnée positive et la deuxième coordonnée négative.
- o Les pays voisins.



Aide-mémoire :

