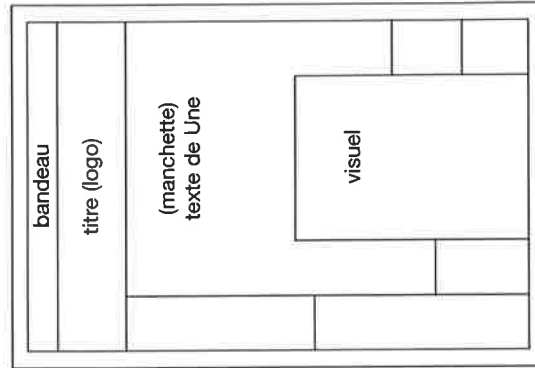
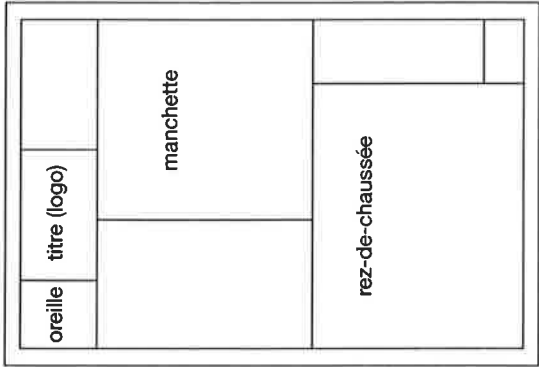


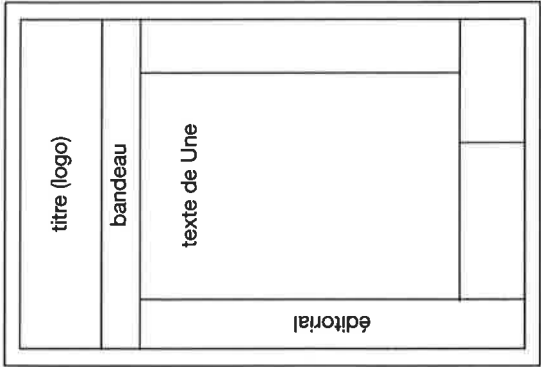
Laune

- Parmi toutes ces Unes, retrouvez la (les) maquette(s) de 24 heures.
- Coloriez les blocs qui la (les) composent.

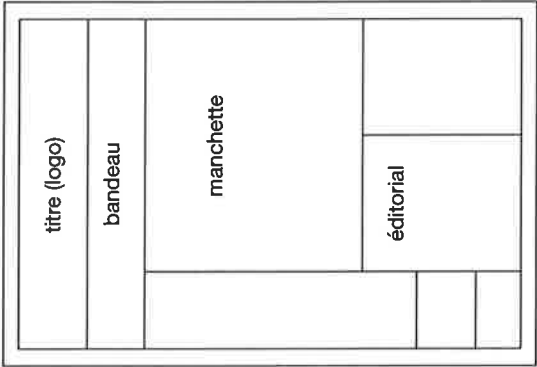




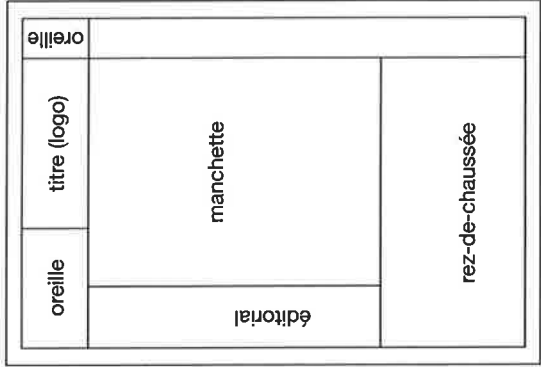
Le Matin



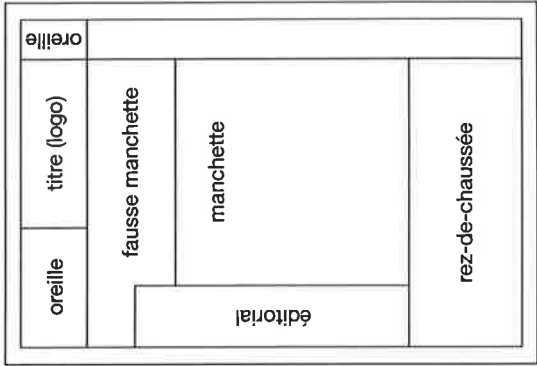
Journal
de Genève
et Gazette
de Lausanne



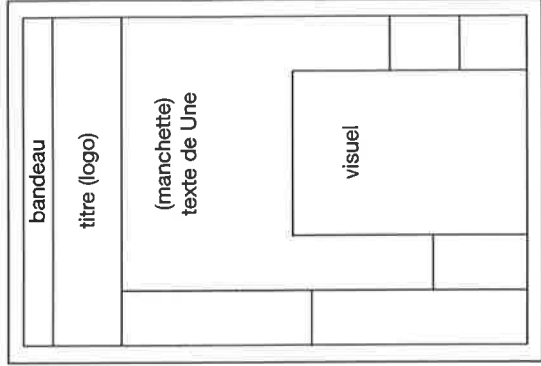
Tribune de Genève



24 heures



24 heures
(avec fausse
manchette)




Le Nouveau
Quotidien

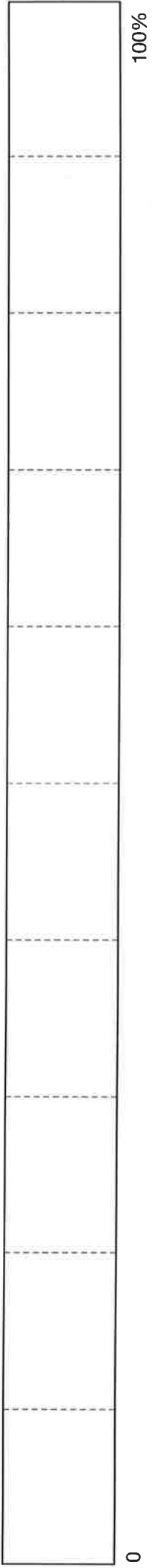


- Observez les Unes de plusieurs quotidiens.
- Pour chacune d'entre elles, calculez en % la place occupée par les titres, les textes, les illustrations et la publicité.
- Reportez vos résultats sur les diagrammes ci-dessous.


Nom du journal: _____





Nom du journal: _____



Nom du journal: _____



Nom du journal: _____



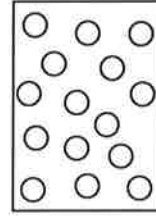
TITRES



TEXTE



ILLUSTRATIONS



PUB



Nom des quotidiens		Titres à la Une (tiercé)			Date
Quotidiens romands		1.			
		2.			
		3.			
		1.			
		2.			
		3.			
Quotidiens alémaniques		1.			
		2.			
		3.			
		1.			
		2.			
		3.			
Quotidiens étrangers		1.			
		2.			
		3.			
		1.			
		2.			
		3.			